

À mon tour

3  Complète avec aussi, plus ou moins.

Le bâton **rose** est

plus			
------	--	--	--

 long que le bâton **vert**.

Le bâton **bleu** est

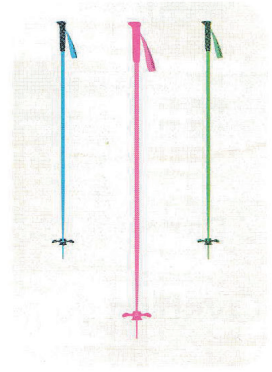
moins			
-------	--	--	--

 long que le bâton **rose**.


Le bâton **vert** est

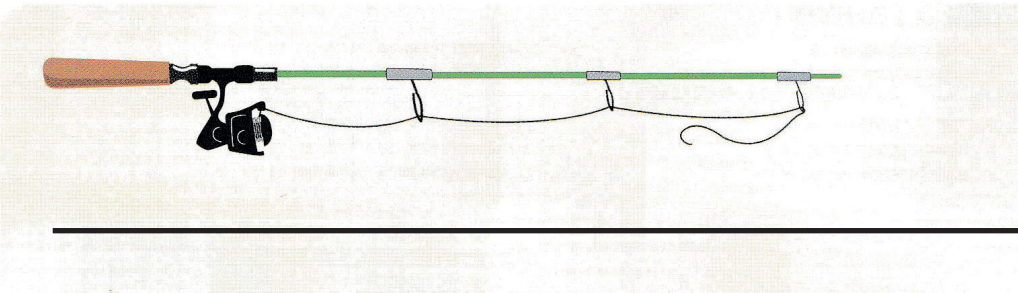
aussi			
-------	--	--	--

 long que le bâton **bleu**.



4  Dessine un trait droit plus long que la canne à pêche.

Utilise ta règle .




Le petit détective

5  Colorie en **bleu** le ruban le plus long.

Colorie en **rouge** le ruban le plus court.

Colorie en **vert** les deux rubans qui ont la même longueur.

Colorie en **orange** le ruban qui reste.



À tour de rôle, choisir deux objets, par exemple une fourchette et un stylo.
Le partenaire compare leurs longueurs :
« La fourchette est plus longue que le stylo ».